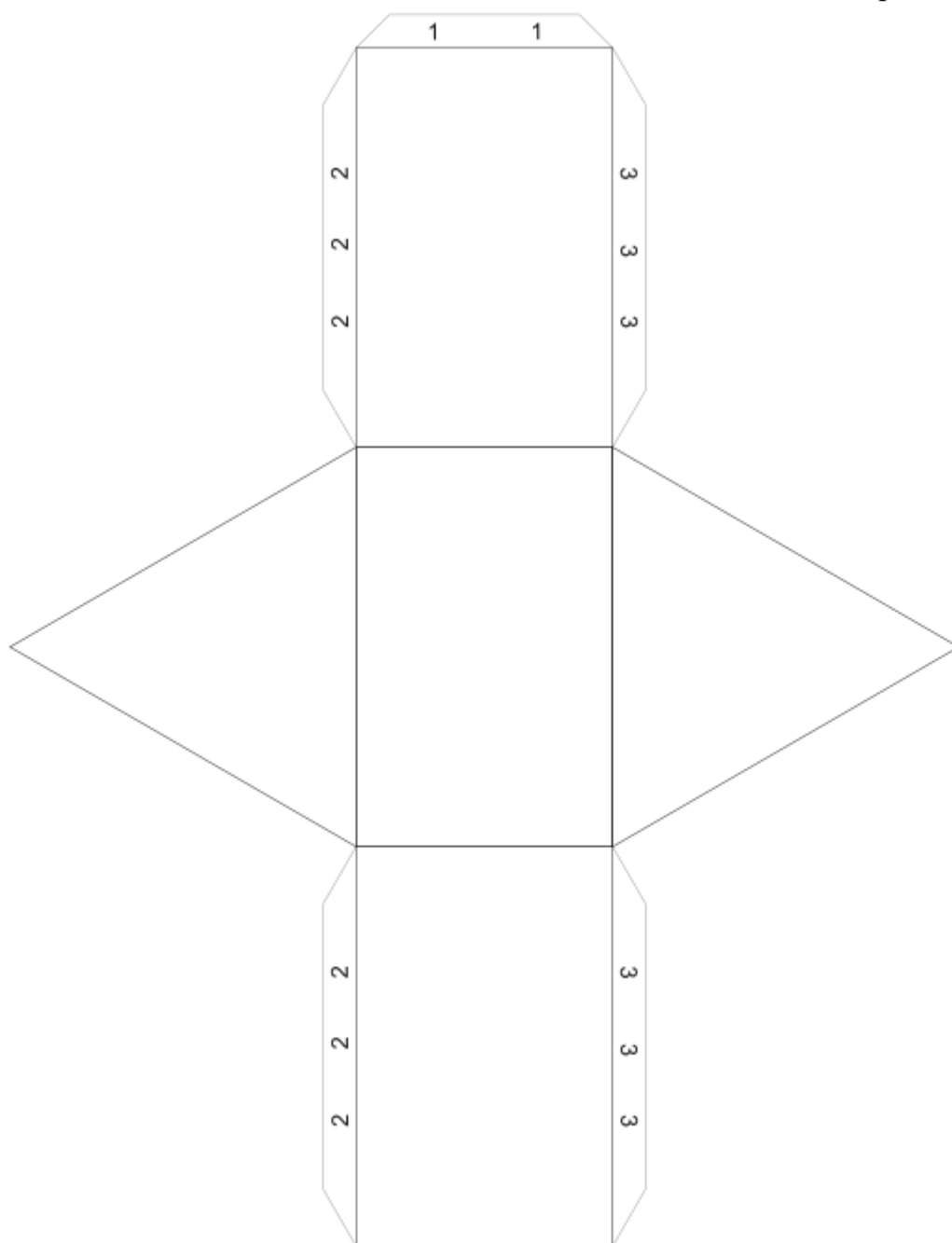
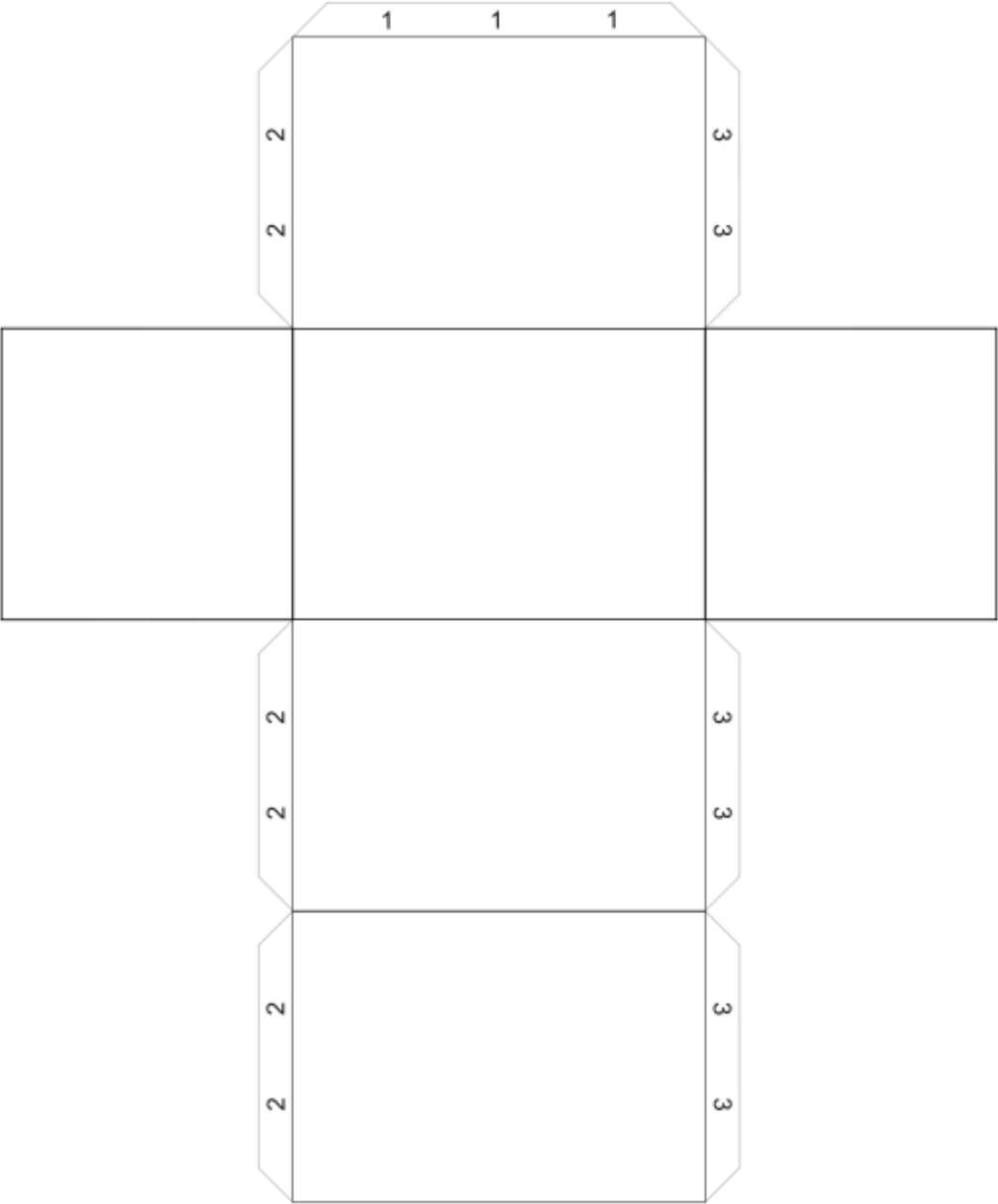


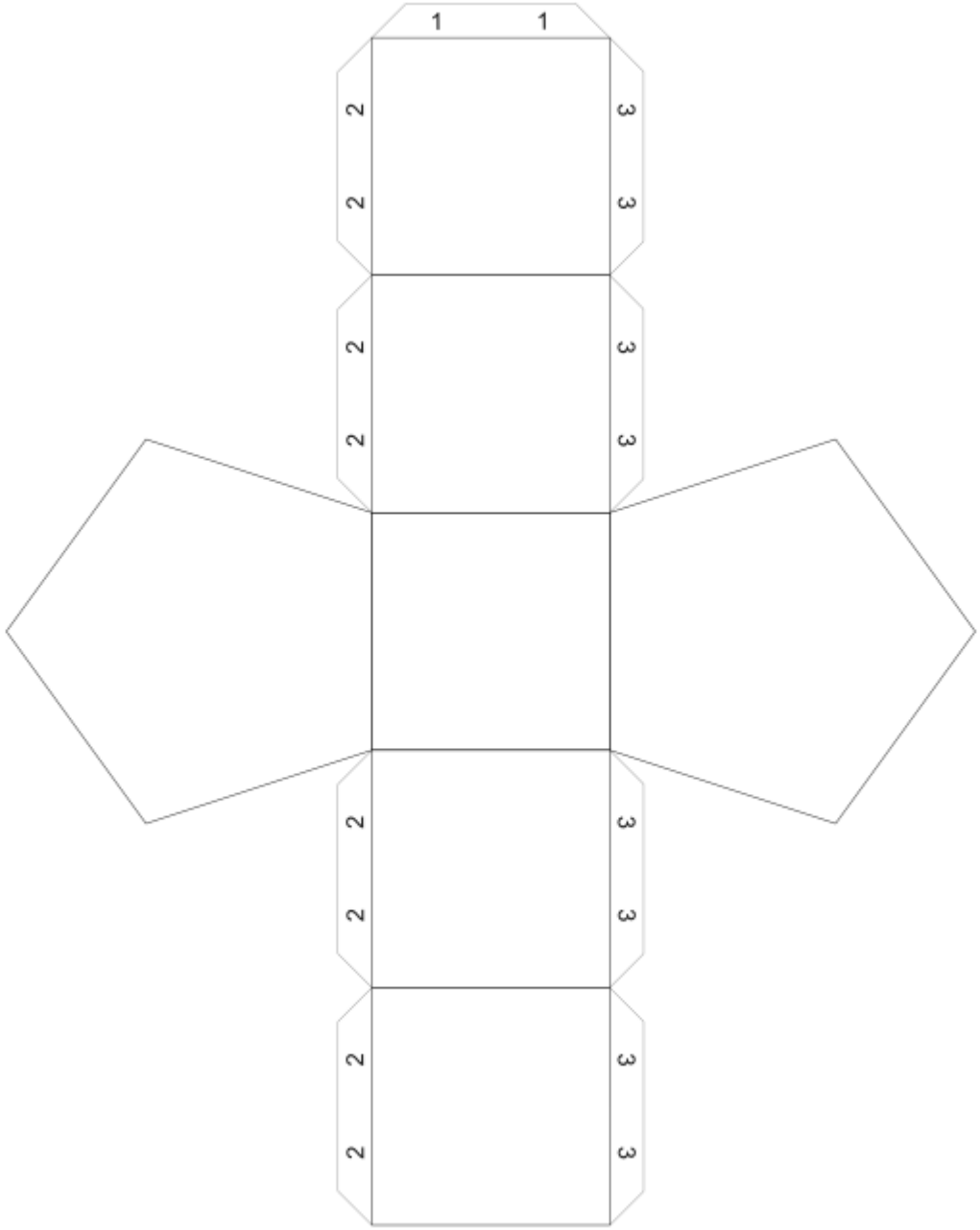
Лист учёта индивидуальных достижений ученика(цы)

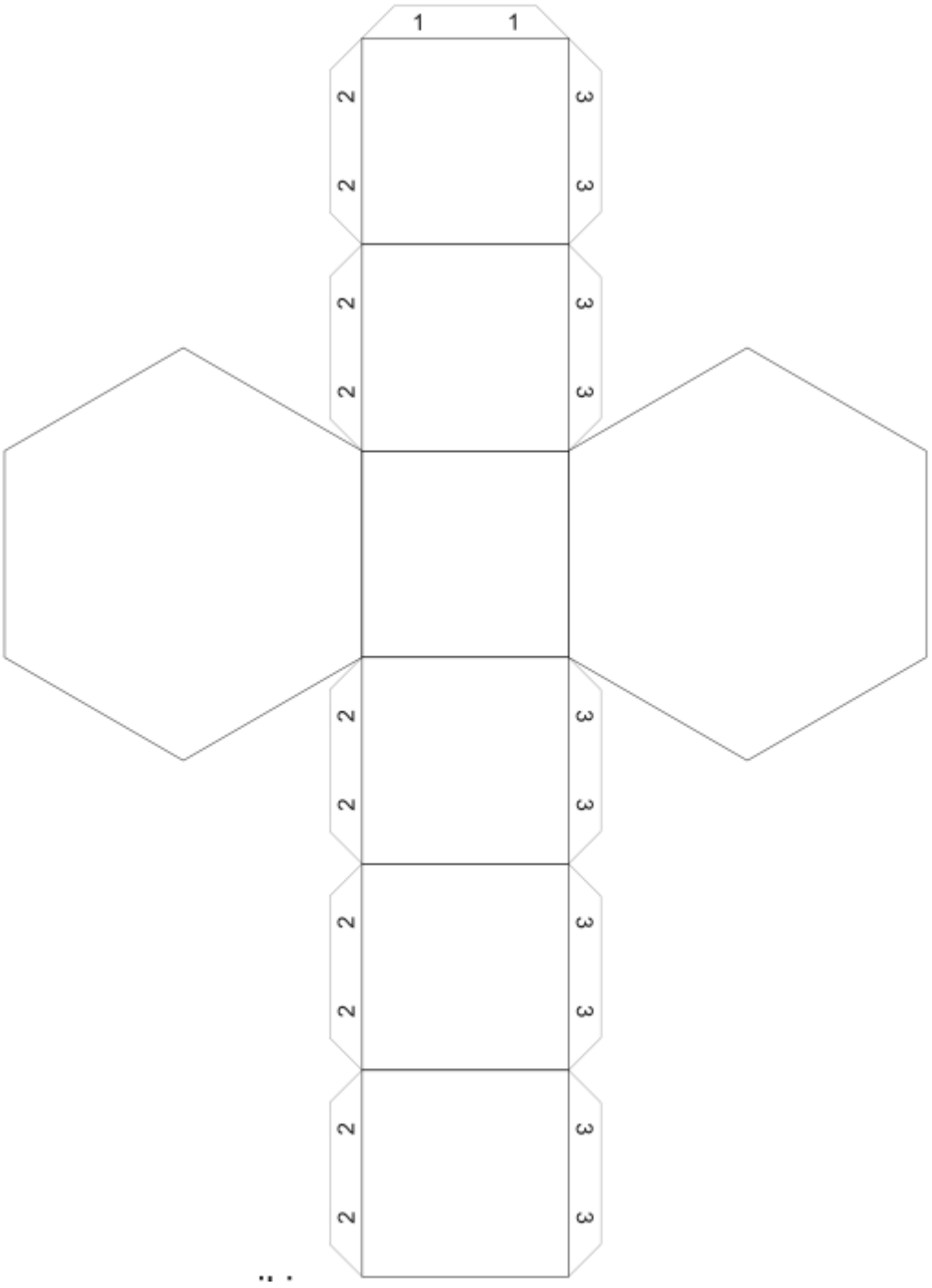
«Моя работа на уроке»

<i>Вид деятельности</i>	<i>Критерии оценивания</i>	<i>Баллы</i>	<i>Мои баллы</i>	
1. Классификация геометрических фигур	дал(а) правильный ответ и смог(ла) его объяснить	2		
	дал(а) правильный ответ, но не смог(ла) его объяснить	1		
	дал(а) неверный ответ или не принимал(а) участие	0		
2. Формулирование определения на основе ассоциаций	дал(а) правильный ответ и смог(ла) его объяснить	2		
	дал(а) правильный ответ, но не смог(ла) его объяснить	1		
	не смог(ла) ответить на вопрос или дал(а) неверный ответ	0		
3. Определение элементов фигуры	нет ошибок	2		
	сделал(а) 1-2 ошибки	1		
	сделал(а) 3 и более ошибок	0		
4. Решение устных упражнений по готовым чертежам	нет ошибок	2		
	сделал(а) 1 ошибку	1		
	сделал(а) 2 и более ошибок	0		
4. Решение заданий из ЕГЭ	нет ошибок или сделал(а) 1 ошибку	2		
	сделал(а) 2-3 ошибки	1		
	сделал(а) 4 и более ошибок	0		
5. Практическая работа	изготовление фигуры по её развёртке	верно изготовил(а) фигуру	2	
		верно подготовил(а) развёртку, но не закончил(а) работу	1	
		не принимал(а) участие или задание не выполнил(а)	0	
	исследование элементов фигуры	принимал(а) активное участие, предлагал(а) верные решения	2	
		принимал(а) участие, но в предложенных мною решениях были допущены ошибки	1	
		не принимал(а) участие	0	
	решение практической задачи	принимал(а) активное участие, предлагал(а) верные решения	2	
		принимал(а) участие, но в предложенных мною решениях были допущены ошибки	1	
		не принимал(а) участие	0	
ИТОГО БАЛЛОВ:				









∴

Ящик, имеющий форму куба с ребром 10 см без одной грани, нужно покрасить со всех сторон снаружи. Найдите площадь поверхности, которую необходимо покрасить. Ответ дайте в квадратных сантиметрах.

Сколько потребуется стекла для изготовления аквариума длиной 80 шириной 45 сантиметров и высотой 55 сантиметров если ширина стекла 55 сантиметров.

Ящик, имеющий форму куба с ребром 20 см без одной грани, нужно покрасить со всех сторон снаружи. Найдите площадь поверхности, которую необходимо покрасить. Ответ дайте в квадратных сантиметрах.

Сколько потребуется стекла для изготовления аквариума длиной 80 шириной 45 сантиметров и высотой 55 сантиметров если ширина стекла 55 сантиметров.

Ящик, имеющий форму куба с ребром 30 см без одной грани, нужно покрасить со всех сторон снаружи. Найдите площадь поверхности, которую необходимо покрасить. Ответ дайте в квадратных сантиметрах.

Сколько потребуется стекла для изготовления аквариума длиной 80 шириной 45 сантиметров и высотой 55 сантиметров если ширина стекла 55 сантиметров.

Ящик, имеющий форму куба с ребром 40 см без одной грани, нужно покрасить со всех сторон снаружи. Найдите площадь поверхности, которую необходимо покрасить. Ответ дайте в квадратных сантиметрах.

Сколько потребуется стекла для изготовления аквариума длиной 80 шириной 45 сантиметров и высотой 55 сантиметров если ширина стекла 55 сантиметров.